

# DEVOIR DE CONTRÔLE N°3

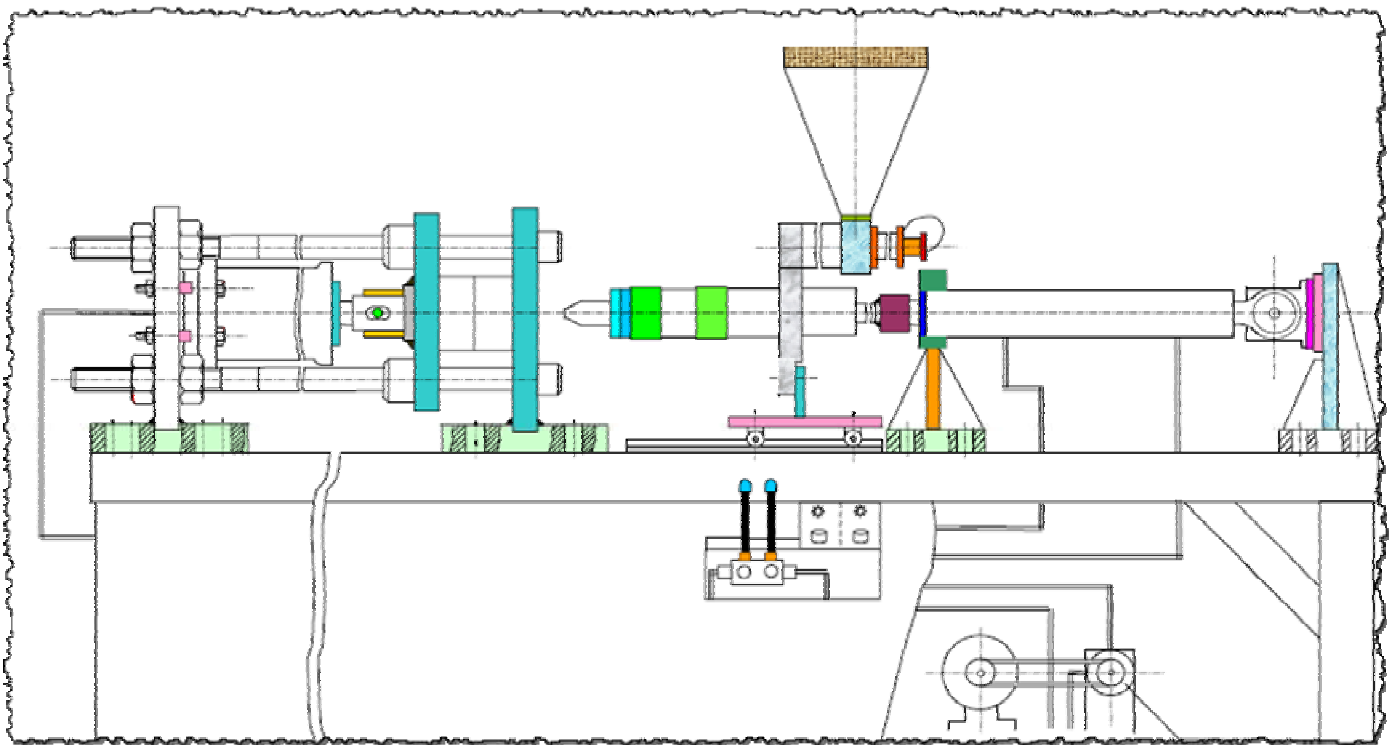
Proposé par l'enseignant

MR BEN ABDALLÂH MAROUAN

Pour la date de : Samedi 20 - Avril - 2013

SYSTÈME D'ÉTUDE

## SYSTEME DE FABRICATION D'ASSIÈTTES EN PLASTIQUE



Classe : 4<sup>e</sup> Sct 3

Année Scolaire : 2012-2013



## II- DESCRIPTION DU CYCLE DE FONCTIONNEMENT:

### II.1 - Etat initial du système:

- \* Les bascules de pesage **BD** et **BE** sont vides.
- \* Les tiges des vérins **C<sub>1</sub>** et **C<sub>2</sub>** sont rentrées.
- \* Le malaxeur est vide (**S<sub>5</sub>=1**; **S<sub>5</sub>** étant un capteur optique placé au fond du malaxeur).

### II.2- Fonctionnement:

Une impulsion sur le bouton de départ cycle **m** provoque simultanément les opérations suivantes:

#### II.2.a - Pesée du produit P<sub>1</sub>: Cette opération se déroule comme suit:

- \* Ouverture de l'électrovanne **A** jusqu'à l'obtention du poids désiré du produit **P<sub>1</sub>**.
- \* Fermeture de l'électrovanne **A** et ouverture de l'électrovanne **D** jusqu'à l'écoulement total du produit **P<sub>1</sub>** dans le malaxeur, ce qui entraîne la fermeture de celle-ci.

#### II.2.b - Pesée des produits P<sub>2</sub> et P<sub>3</sub>: Cette opération se déroule comme suit:

- \* Ouverture de l'électrovanne **B** jusqu'à l'obtention du poids désiré du produit **P<sub>2</sub>**.
- \* Fermeture de l'électrovanne **B** et ouverture de l'électrovanne **C** jusqu'à l'obtention du poids désiré (**P<sub>2</sub>+P<sub>3</sub>**)
- \* Fermeture de l'électrovanne **C** et ouverture de l'électrovanne **E** jusqu'à l'écoulement total des produits (**P<sub>2</sub>+P<sub>3</sub>**) dans le malaxeur, ce qui entraîne la fermeture de celle-ci.

Une fois les opérations (a) et (b) sont terminées, le moto-réducteur **Mt<sub>1</sub>** se met en rotation (**KM<sub>1</sub> = 1**) pour malaxer le produit nécessaire au cycle de moulage décrit ci-dessous. Cette étape qui prépare l'opération de **moulage dure 60 secondes**.

### DESCRIPTION D'UNE OPÉRATION DE MOULAGE :

- L'électrovanne **X** s'ouvre durant 20 secondes permettant l'écoulement du mélange dans le pot d'alimentation préchauffé (l'opération de malaxage continue).
- La fin du temps réservé à l'écoulement du mélange (**20 secondes**) provoque la fermeture du moule par le vérin **C<sub>2</sub>** (**SC<sub>2</sub>**) et l'arrêt du malaxeur (**Mt<sub>1</sub> = 0**).
- Une fois le moule est fermé, le moteur pas à pas **Mt<sub>2</sub>** (Relais **KA**) effectue **N<sub>2</sub>** tours (**N<sub>2</sub> = 9 tours**) amenant ainsi dans le pot d'injection la dose de mélange préchauffé nécessaire au moulage d'une assiette. Un compteur, piloté par un capteur **H** qui est actionné une fois par tour, permet l'arrêt de ce moteur dès que le nombre **N<sub>2</sub>** est atteint.
- L'arrêt du moteur **Mt<sub>2</sub>** enclenche l'injection du mélange chauffé dans le moule par le vérin **C<sub>1</sub>** (**SC<sub>1</sub>**).
- La fin de l'injection provoque le retour du vérin **C<sub>1</sub>** (**RC<sub>1</sub>**).
- Le retour du vérin **C<sub>1</sub>** provoque le retour du vérin **C<sub>2</sub>** (**RC<sub>2</sub>**).

L'opération de moulage se reproduira tant qu'un niveau bas dans le malaxeur n'est pas atteint par le produit. Une fois ce niveau est atteint (**S<sub>5</sub> = 1**), le système s'arrête ; c'est la fin du cycle.

Une nouvelle impulsion sur **m** entraîne alors le début d'un nouveau cycle.

## III- MOTORISATION DU SYSTÈME :

La motorisation du système est assurée par :

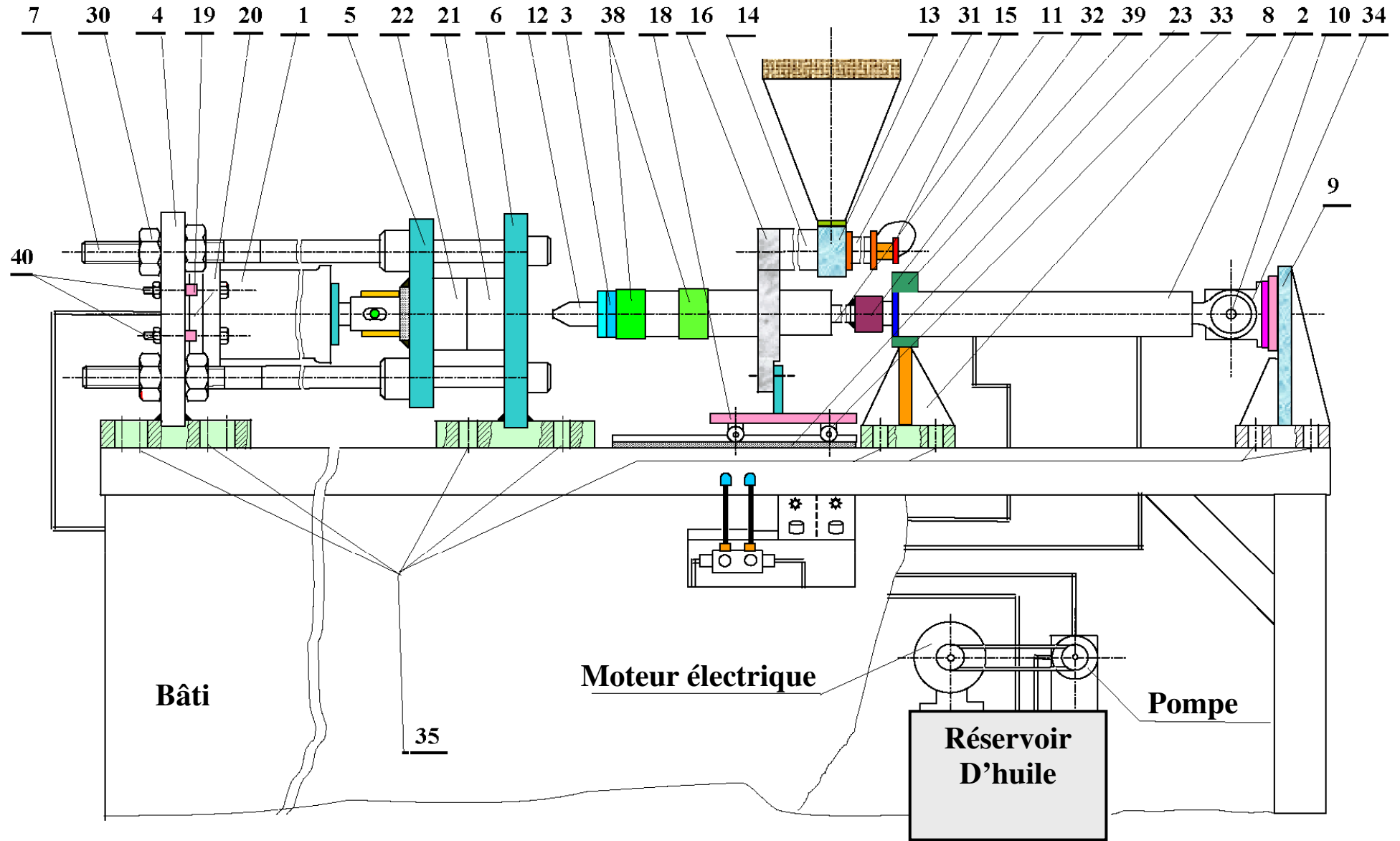
- ▣ **Mt<sub>1</sub>** : Moto-réducteur asynchrone triphasé dont la vitesse de rotation est **N<sub>1</sub>**.
- ▣ **Mt<sub>2</sub>** : Moteur pas à pas (représenté par la figure suivante) dont la vitesse de rotation est **N<sub>2</sub>**.

## IV- DESCRIPTION DU DISPOSITIF DE COMPTAGE :

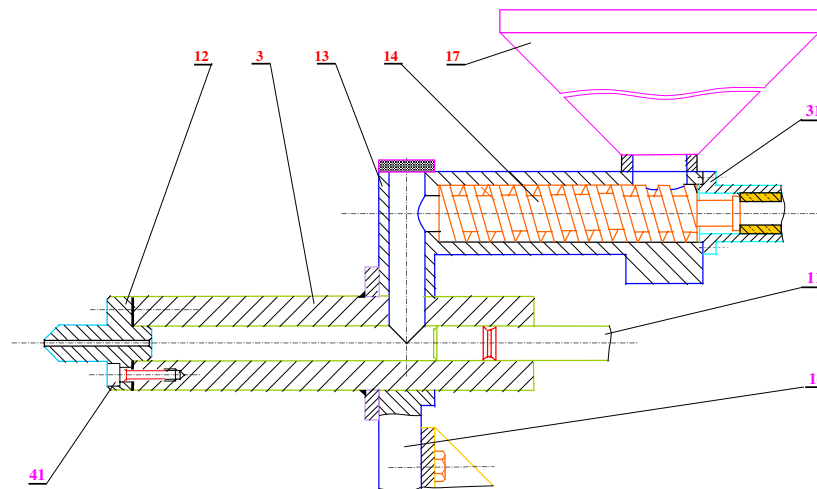
L'axe du moteur pas à pas est solidaire d'une came qui vient actionner un capteur **H** à la fin de chaque **t** pour effectuer, ce qui permet l'incréméntation du compteur. Lorsque le nombre de tours **N<sub>2</sub>** demandé est atteint, le compteur est remis à zéro.

Un bouton **Init** permet aussi le forçage à zéro du compteur.

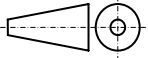
Le compteur délivre un **signal logique S** tel que: **S = 1** si **N<sub>2</sub> = 9** et **S = 0** si **N<sub>2</sub> < 9**

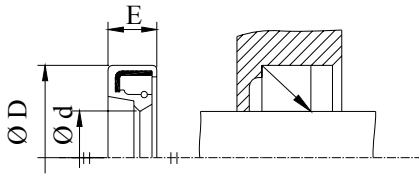


## Dessin simplifié du mécanisme d'alimentation et d'injection

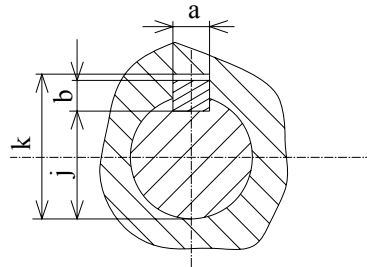


### Nomenclature

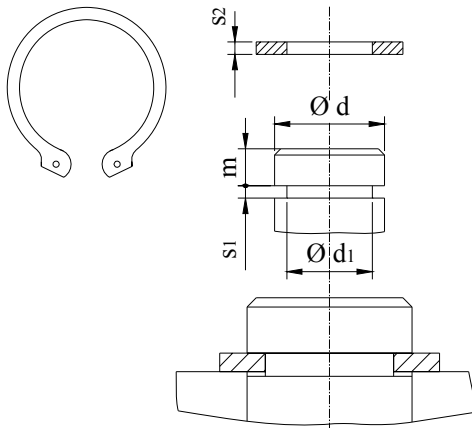
19	6	Entretoise XC10	45	2	Vis HC M8-25	
18	1	Chariot	44	2	Bille diamètre 6	
17	1	Trémie	43	4	Vis CHC M6x20	
16	1	Plaque support E24	42	2	Vis CHC M10x30	
14	1	Vis d'Archimède	41	4	Vis CHC M8x25	
13	1	Pot d'alimentation XC48	40	6	Boulon M16x140	
12	1	Buse d'injection XC48	39	4	Galet E26	
11	1	Piston d'injection XC48	38	2	Collier chauffant	
10	1	Axe XC48	37	5	Flexible	
9	1	Support arrière E24 Tôle soudée	35	18	Boulon Hr 8-8 HM12x80	
8	1	Support de vérin E24 Tôle soudée	34	1	Chape E26	
7	1	Colonne de guidage XC48	33	2	Axe XC10	
6	1	Plaque fixe E24 Tôle de 30 mm	31	1	Support moteur E26	
5	1	Plaque mobile E24 Tôle de 30 mm	30	8	Écrou H M36/3 XC48	
4	1	Plaque fixe E24 Tôle de 30 mm	23	1	Chemin de roulement E24	
3	1	Pot d'injection XC48 Soudé	22	1	Demi Moule gauche	
2	1	Vérin C1 d'injection	21	1	Demi Moule droit	
1	1	Vérin C2 de fermeture	20	1	Flasque du vérin XC48	
<b>Rep</b>	<b>Nb</b>	<b>Désignation</b>	<b>Rep</b>	<b>Nb</b>	<b>Désignation</b>	
<b>MÉCANISME D'ALIMENTATION ET D'INJECTION</b>					Dessine Par : Ben Abdallah Marouan	03
					Le : 20 / 04 / 2013	02
<b>DEVOIR DE CONTRÔLE N°3</b>					01	
A4		Nom & Prénom : .....			Classe : 4ScT3	00

**Les éléments standard :****Joint Paulstra IE**

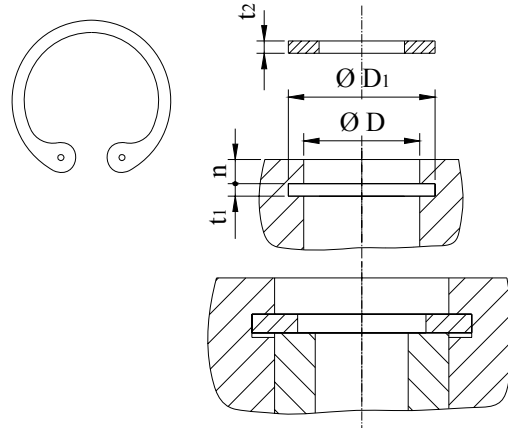
d	D	E	d	D	E
8	22	7	18	30	7
9	22	7	20	30	7
10	22	7	22	32	7
12	24	7	25	35	7
15	24	7	28	40	7
17	28	7	30	42	7

**Clavettes parallèles ordinaires**

d	a	b	j	k
de 8 à 10 inclus	3	3	d - 2,5	d + 1,4
10 à 12	4	4	d - 3	d + 1,8
12 à 17	5	5	d - 3,5	d + 2,3
17 à 22	6	6	d - 4	d + 2,8
22 à 30	8	7	d - 4	d + 3,3

**Circlips extérieurs**

d	d1	s1	s2	m mini
17	16,2	1,1	1	1,35
18	17	1,3	1,2	1,5
20	19	1,3	1,2	1,5
25	23,9	1,3	1,2	1,7
30	28,6	1,6	1,5	2,1

**Circlips intérieurs**

D	D1	t1	t2	n mini
35	37	1,6	1,5	3
40	42,5	1,85	1,75	3,8
45	47,5	1,85	1,75	3,8
50	53	2,15	2	4,5
55	63	2,15	2	4,5

# DEVOIR DE CONTRÔLE N°3

2012-2013

Système D'étude :

## SYSTÈME DE FABRICATION D'ASSIÈTTES EN PLASTIQUE

Devoir Pour la Date de : 20 Avril 2013  
(4<sup>ème</sup> Sciences Techniques 3)

Proposé par M<sup>r</sup> BEN ABDALLAH MAROUAN

Nom & Prénom : ..... N° ... Classe : 4<sup>ème</sup> Sciences Techniques 3

Note : ..... / 20

-----  
-----  
(Aucun document n'est autorisé. Les calculatrices sont autorisées)

**I- Analyse fonctionnelle de la partie opérative :**

La fabrication des assiettes passe par les quatre phases successives définies dans le tableau suivant.

Donner pour chacune d'elles l'actionneur(s) et l'effecteur(s) qui participent à l'accomplissement des tâches.

N° Phase	Taches	Actionneurs	Effecteurs
1 Pesage	Pesage	<del>.....</del>	.....
2 Malaxage	Préchauffage	.....	<del>.....</del>
	Malaxage	.....	.....
3 Dosage	Chauffage	.....	<del>.....</del>
	Dosage	.....	.....
4 Moulage	Chauffage	.....	<del>.....</del>
	Injection	.....	<del>.....</del>
	Moulage	.....	.....

**II- Etude du moto réducteur.**

Le moto réducteur  $Mt_1$  est composé d'un moteur asynchrone ;

On donne vitesse de rotation :  $N_m = 1500$  tr/min et d'un réducteur de vitesse à arbres parallèles.

L'arbre de sortie du réducteur entraîne les palettes du malaxeur à une vitesse de rotation  $N_s = 102,63$  tr/min.

Cet arbre est réalisé en acier en acier "25 Cr Mo 4" ayant une résistance à la limite élastique par extension

$R_e = 785 \text{ N/mm}^2$ .

II.1- Calculer le rapport de réduction  $r$  du réducteur.

.....  
 .....  $r =$  .....

II.2- Le réducteur est constitué de deux couples d'engrenages de même module et même entraxe.

Calculer  $Z_3$  et  $Z_4$  sachant que  $Z_1 = 17$  dents et  $Z_2 = 85$  dents.



.....  
 .....  
 .....  
 .....  $Z_3 =$  .....

.....  
 .....  $Z_4 =$  .....





### III- Étude de Came de commande distributeur du vérin C<sub>2</sub> :

III.1- De quel type de came s'agit -elle ? .....

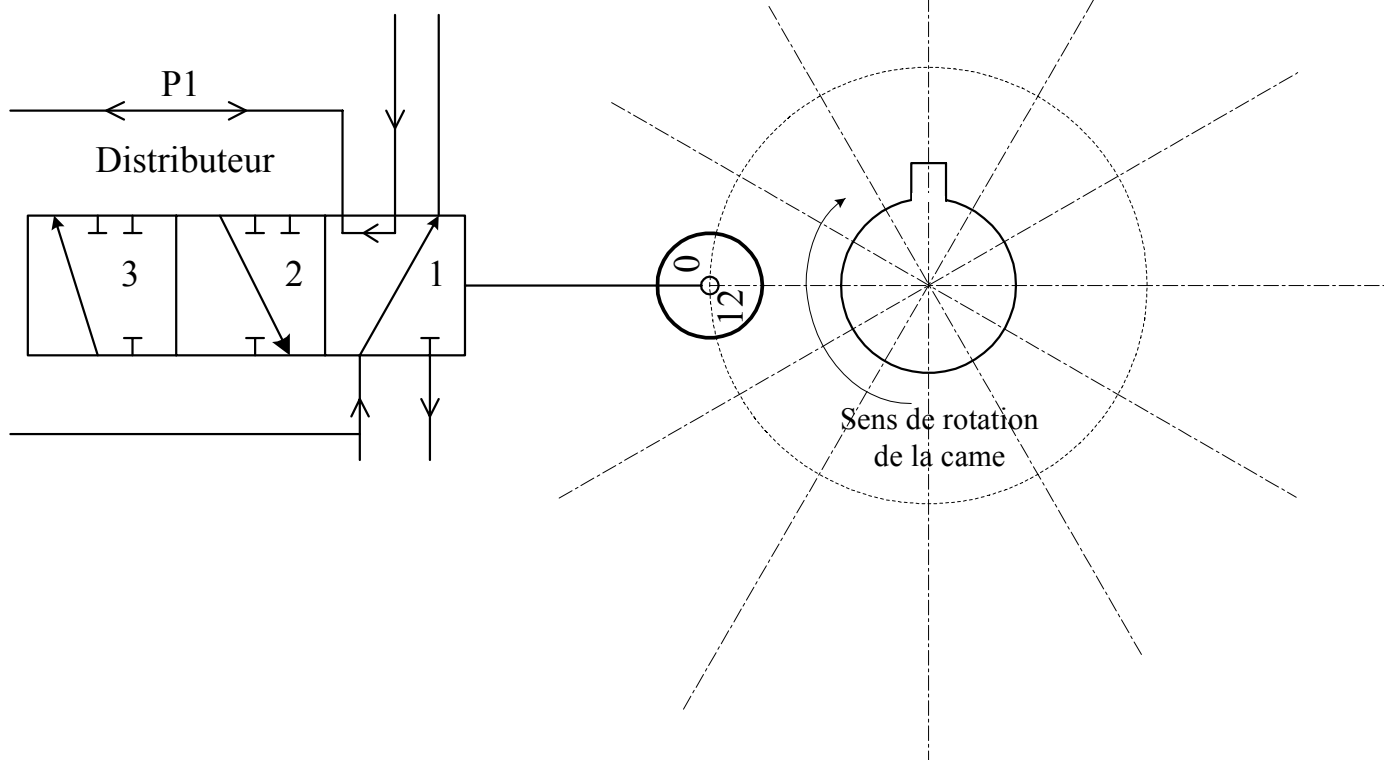
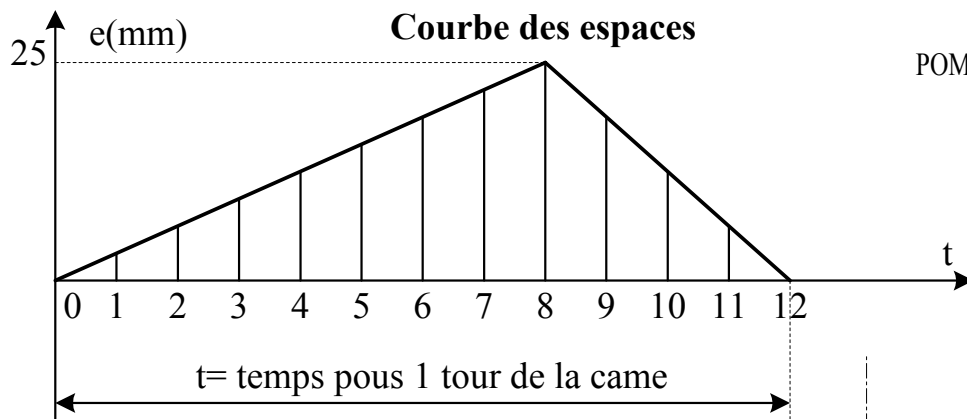
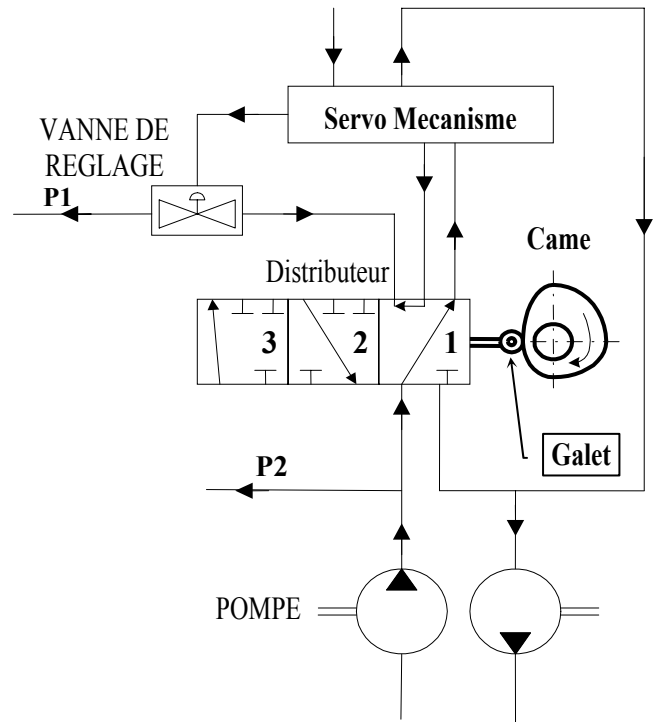
III.2- Justifier le rôle du galet ? .....

III.3- Le système Came est-il réversible ? .....

III.4- On donne :

- Le diamètre du galet est de 14 mm.
- Le cercle de levée nulle est de diamètre 50mm.
- Le diagramme des espaces :  $e = f(t)$  à l'échelle 1 : 1

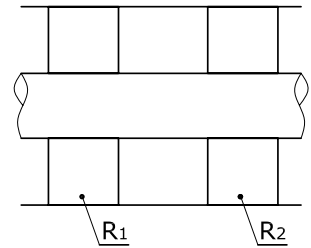
Tracer le profil de la came



**IV- Conception :**

**IV.1- Étude de Guidage en rotation par des deux roulements à bille à contact oblique type BT.**

IV.1.a- Compléter le schéma ci-contre en indiquant le symbole des roulements et l'emplacement des arrêts en translation des bagues intérieures et extérieures.



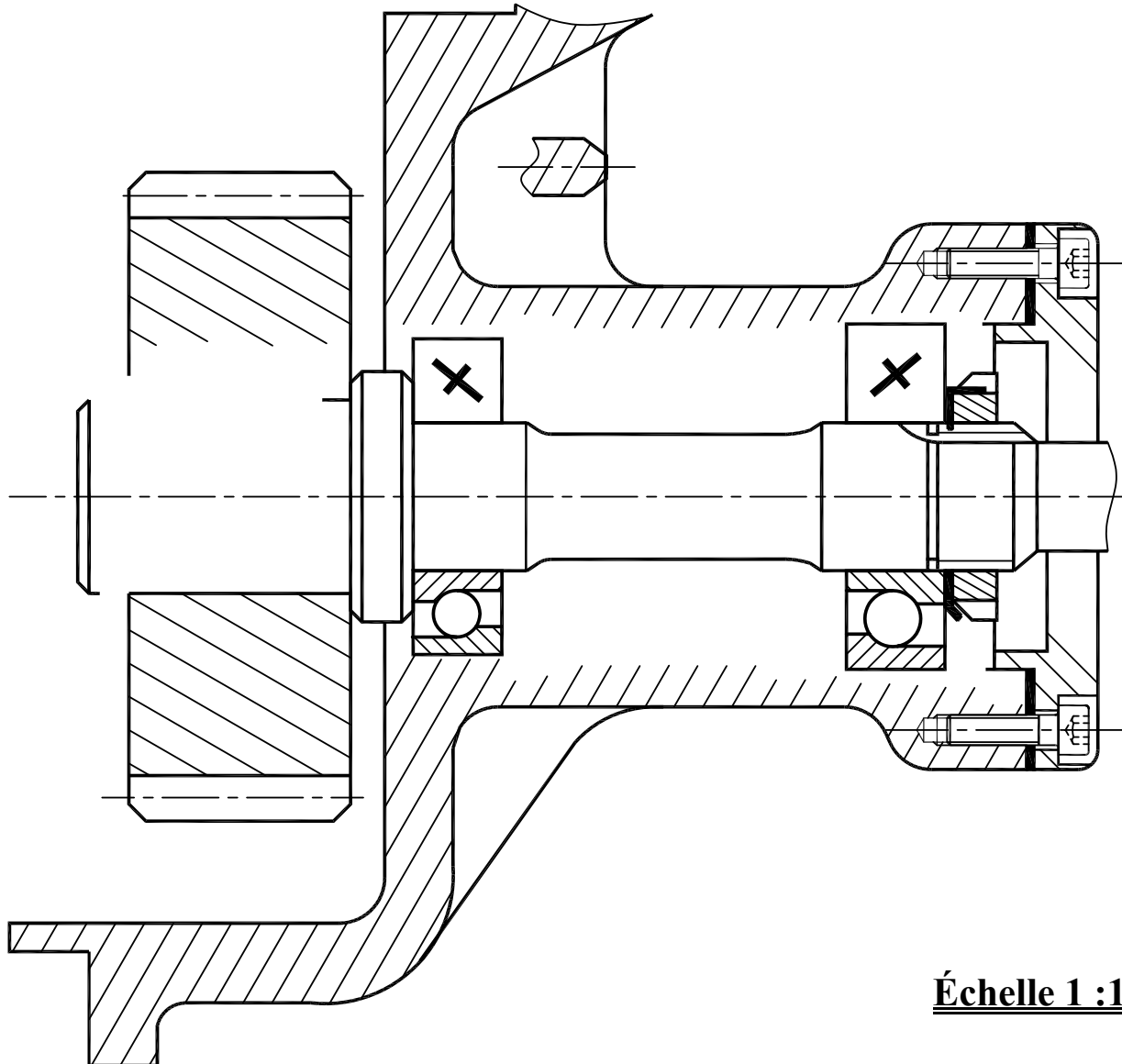
IV.1.b- Quel type de montage s'agit-il : .....

IV.1.c- La mise en position des roulements avec le moyeu est assurée par deux épaulements à l'intérieur et la mise en position avec l'arbre de sortie est assurée par un épaulement à l'extérieur et un écrou à encoche et rondelle frein.

IV.1.d- Assurer l'étanchéité (Coté **droite**) par un joint à lèvres.

IV.1.e- Indiquer les ajustements nécessaires aux montages du roulement et du joint à lèvres.

**IV.2- Réaliser la liaison complète de la roue dentée par une clavette parallèle et un anneau élastique.**



**Échelle 1 :1**

# DEVOIR DE CONTRÔLE N°3

2012-2013

Système D'étude :

**SYSTÈME DE FABRICATION D'ASSIÈTTES EN PLASTIQUE**

Devoir Pour la Date de : 20 Avril 2013  
(4<sup>ème</sup> Sciences Techniques 3)

Proposé par M<sup>r</sup> BEN ABDALLAH MAROUAN

**CORRECTION**

Note : ..... / 20

-----  
-----  
  
(Aucun document n'est autorisé. Les calculatrices sont autorisées)



## Correction

**II.3-** L'arbre de sortie du réducteur est assimilé à une poutre cylindrique pleine sollicitée à la torsion simple.

II.3.a- Calculer le diamètre minimal **d** de l'arbre de sortie sachant que :

- Le couple appliqué sur l'arbre de sortie du réducteur est  $C_s = 240 \text{ Nm}$
- La résistance à la limite élastique au glissement est  $\tau_e = 0,8 \text{ Re}$
- Le coefficient de sécurité est  $s = 8$ .

Condition de résistance :  $\tau_{\text{Maxi}} \leq \tau_{pe}$  Avec  $\tau_{pe} = \tau_e / s = 0,8 \times \text{Re} / s = 0,8 \cdot 785 / 8 = 78,5 \text{ N/mm}^2$  .....

Avec  $\tau_{\text{Maxi}} = C_s / (I_o/v)$  Avec  $I_o/v = (\pi \cdot d^4 / 32) / (d/2) = \pi \cdot d^3 / 16 \Rightarrow \tau_{\text{Maxi}} = 16 \cdot C_s / (\pi \cdot d^3)$  .....

Alors  $\tau_{\text{Maxi}} \leq \tau_{pe} \Rightarrow 16 \cdot C_s / (\pi \cdot d^3) \leq 78,5 \Leftrightarrow d^3 \geq 16 \cdot C_s / (\pi \cdot 78,5) \Leftrightarrow d \geq [16 \cdot C_s / (\pi \cdot 78,5)]^{1/3}$  .....

$\Rightarrow d \geq [16 \cdot 240 \cdot 10^3 / (\pi \cdot 78,5)]^{1/3} = 24,9 \text{ mm}$  .....  **$d_{\text{mini}} = 24,9 \text{ mm}$**  ..

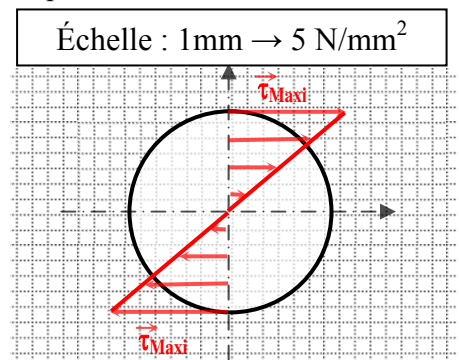
II.3.b- D'après le magasin de stockage, choisir le diamètre qui convient à cette poutre :

Diamètre d (mm)	10	15	20	25	30	35	40	45	50
--------------------	----	----	----	----	----	----	----	----	----

II.3.c- Calculer la contrainte tangentielle maximale  $\tau_{\text{Maxi}}$  et représenter la pour le diamètre choisi et dessiner

la répartition des contraintes de torsion sur le dessin ci-contre:

. On a  $\tau_{\text{Maxi}} = 16 \cdot C_s / (\pi \cdot d^3) = 16 \cdot 240000 / (\pi \cdot 25^3) = 78 \text{ N/mm}^2$  .....

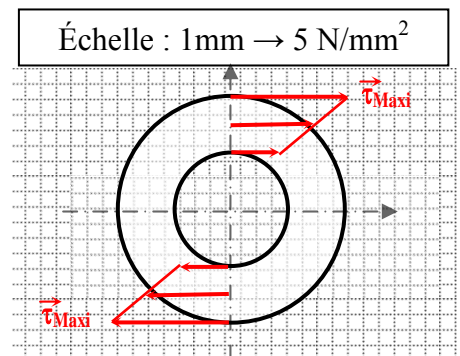


II.3.d- Si la poutre est creuse, calculer la contrainte tangentielle maximale  $\tau_{\text{Maxi}}$  et représenter la

répartition des contraintes de torsion sur le dessin ci-contre : **D = 30 mm** et **d = 20 mm**

. On a  $\tau_{\text{Maxi}} = C_s / (I_o/D)$  avec  $I_o = \pi \cdot (D^4 - d^4) / 32$  .....

$\Rightarrow \tau_{\text{Maxi}} = 32 \cdot C_s / \pi \cdot (D^4 - d^4) = 32 \cdot 240000 / \pi \cdot (30^4 - 20^4) = 56 \text{ N/mm}^2$  .....



**III- Étude de Came de commande distributeur du vérin C<sub>2</sub> :**

III.1- De quel type de came s'agit-elle ? **Came à disque** .;

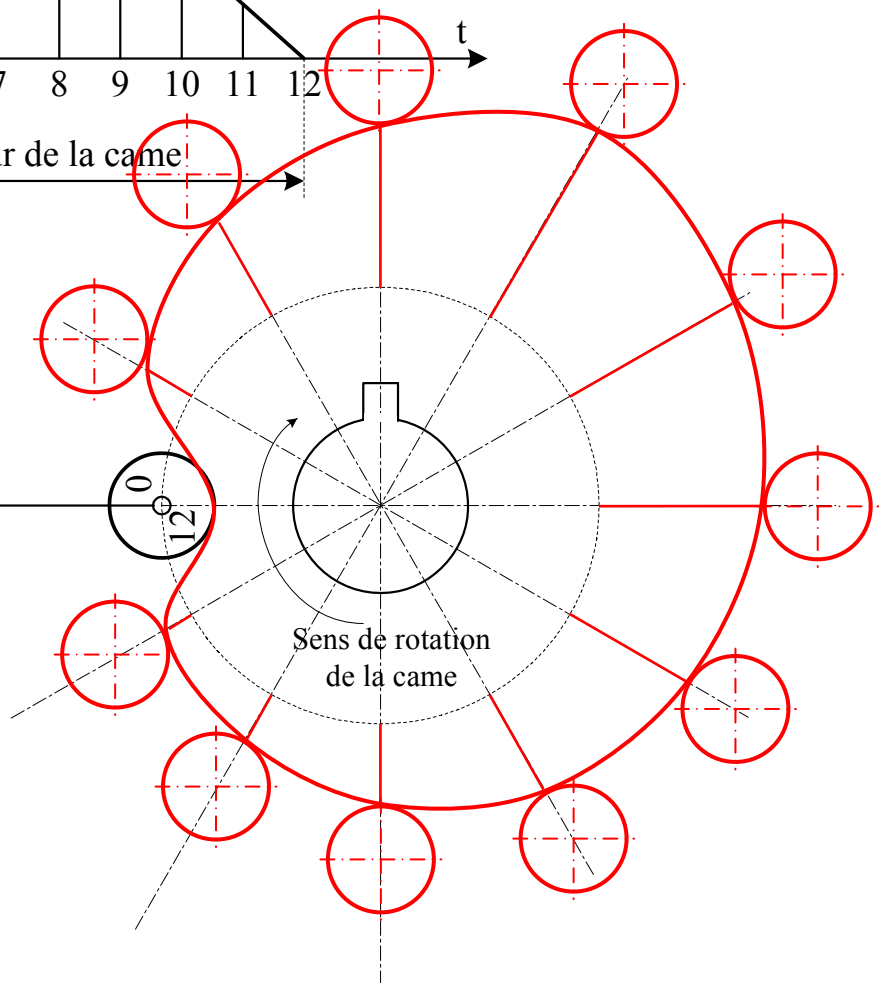
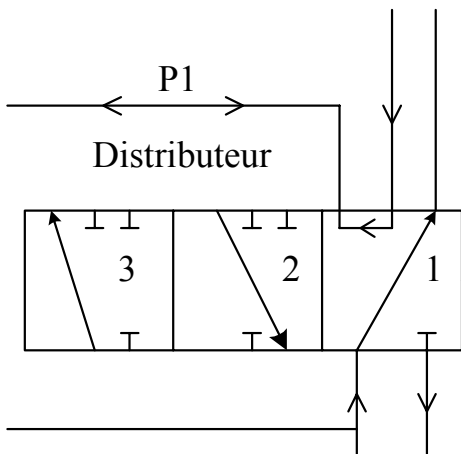
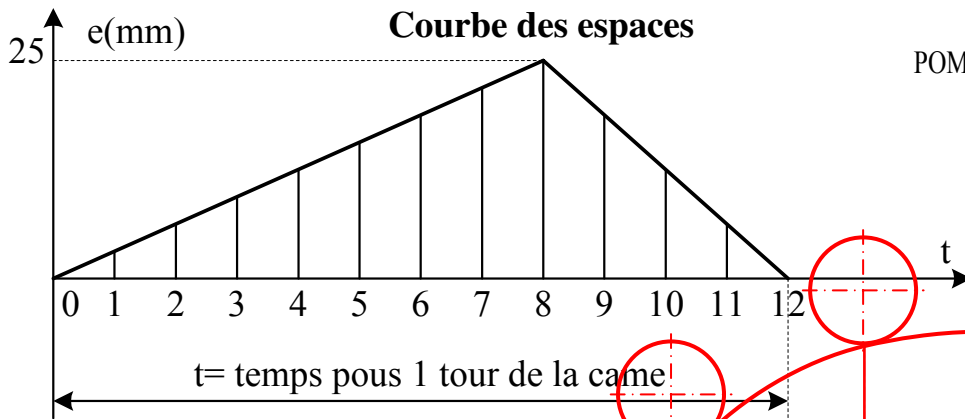
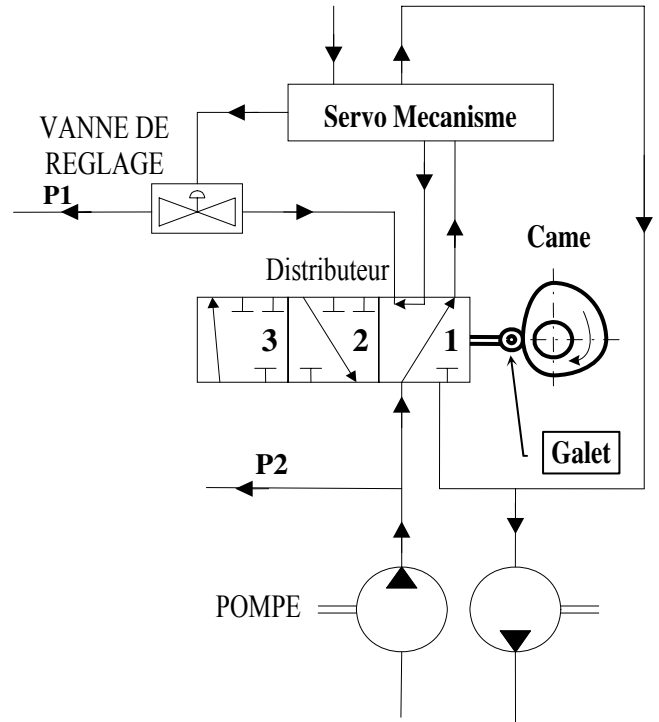
III.2- Justifier le rôle du galet ? **Pour éviter le coincement par arc-boutement de la tige de la came**;

III.3- Le système Came est-il réversible ? **Irréversible** ;

III.4- On donne :

- Le diamètre du galet est de 14 mm.
- Le cercle de levée nulle est de diamètre 50mm.
- Le diagramme des espaces :  $e = f(t)$  à l'échelle 1 : 1

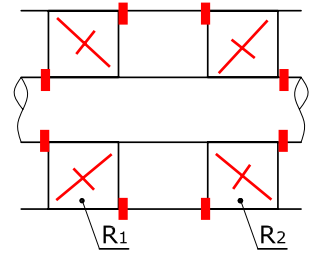
Tracer le profil de la came



**IV- Conception :**

**IV.1- Étude de Guidage en rotation par des deux roulements à bille à contact oblique type BT.**

IV.1.a- Compléter le schéma ci-contre en indiquant le symbole des roulements et l'emplacement des arrêts en translation des bagues intérieures et extérieures.



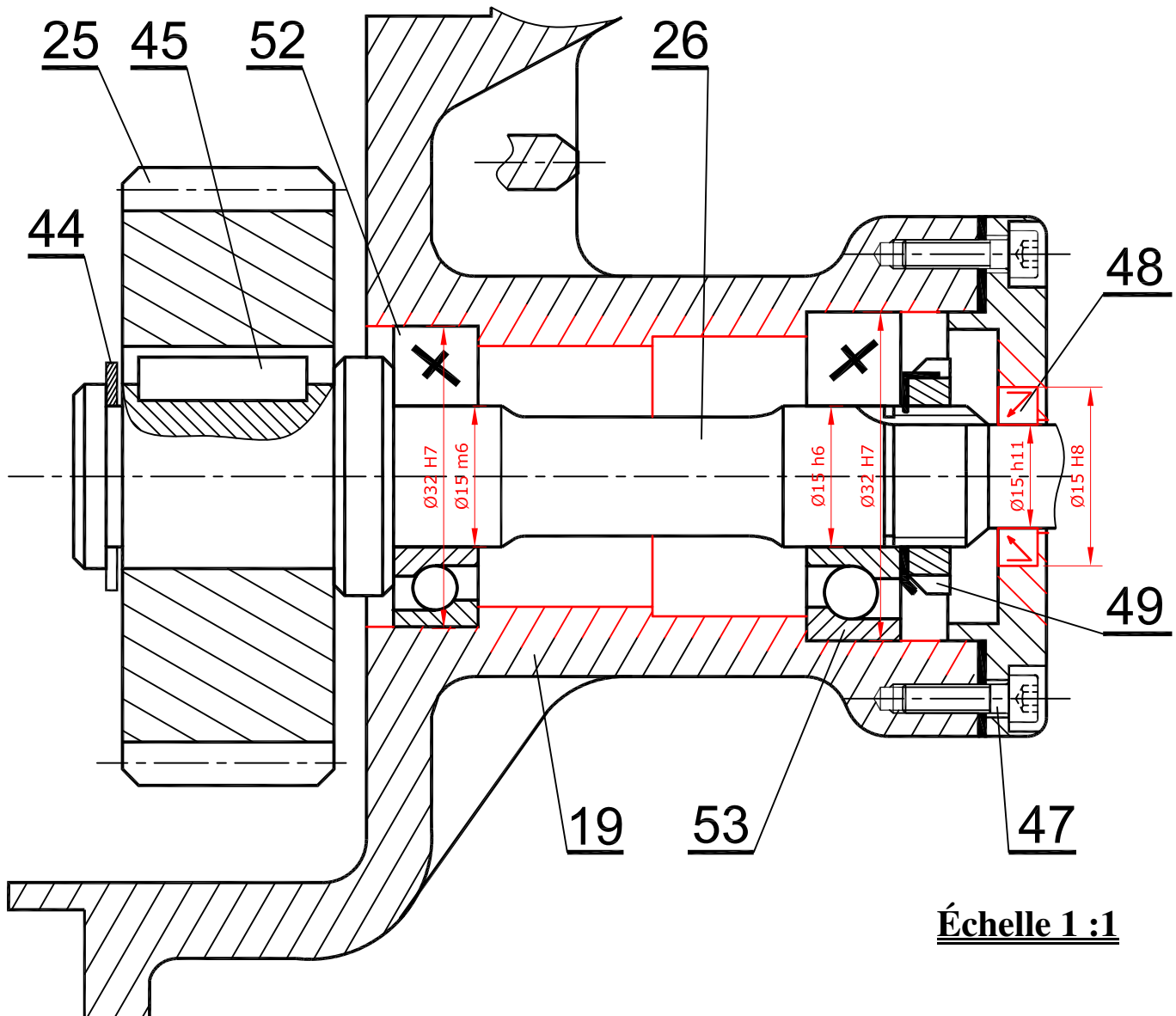
IV.1.b- Quel type de montage s'agit-il : **Montage indirect en «O»** .....

IV.1.c- La mise en position des roulements avec le moyeu est assurée par deux épaulements à l'intérieur et la mise en position avec l'arbre de sortie est assurée par un épaulement à l'extérieur et un écrou à encoche et rondelle frein.

IV.1.d- Assurer l'étanchéité (Coté **droite**) par un joint à lèvres.

IV.1.e- Indiquer les ajustements nécessaires aux montages du roulement et du joint à lèvres.

**IV.2- Réaliser la liaison complète de la roue dentée par une clavette parallèle et un anneau élastique.**



**Échelle 1 : 1**